


Activité : des entiers aux décimaux


Mesure la surface de chacun de ces rectangles à l'aide du carré unité :

1 unité

Rectangle 1 :




Rectangle 2 :



Rectangle 3 :



Rectangle 4 :



Rectangle 5 :

