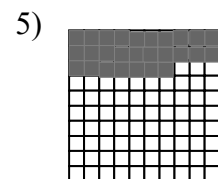

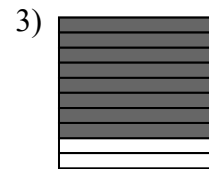
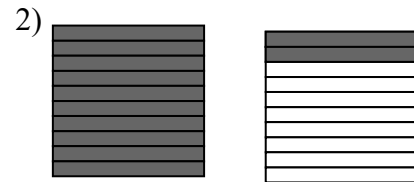



## Comprendre les nombres décimaux (1)

### Exercice 1

Écris les nombres suivants en utilisant les fractions :



### Exercice 2

Représente les nombres suivants à l'aide des carrés :

Nombre 1 :  $\frac{27}{10}$

Nombre 2 :  $1 + \frac{33}{100}$

Nombre 3 :  $\frac{158}{100}$